

CÂMARA MUNICIPAL DE GARANHUNS
CONCURSO PÚBLICO

DADOS DE IDENTIFICAÇÃO DO CANDIDATO

Não deixe de preencher as informações a seguir:

<i>Prédio</i>	<i>Sala</i>

<i>Nome</i>

<i>Nº de Identidade</i>	<i>Órgão Expedidor</i>	<i>UF</i>	<i>Nº de Inscrição</i>

COPEIRA(O)

LÍNGUA PORTUGUESA

Texto 1 (questões de 01 a 06)

Evitando tragédias

Em muitos casos, as tragédias, embora aparentemente naturais, são consequências da ação humana. Jogar lixo em encostas, ruas e rios, construir às margens de rios e pés de morro sem o licenciamento ambiental e modificações inadequadas são ações que fatalmente concorrem para a ocorrência de catástrofes. A educação ambiental e o cuidado cotidiano com a nossa cidade, a nossa rua e a nossa moradia fazem parte de um exercício de cidadania que não depende de governo nem de governante. Quando ajudamos, fazendo a nossa parte, certamente minimizamos os impactos sobre a natureza e, conseqüentemente, sobre nós mesmos e todos os que nos cercam. O público não é responsabilidade do outro, é nossa. Zelemos por ele.

Disponível em: <http://www.vernke.com.br/>

01. No trecho: “...as tragédias, embora aparentemente naturais...”, o elemento coesivo “embora” liga as orações, tendo o valor semântico de concessão. Qual dos conectivos abaixo pode substituí-lo sem alterar o sentido do texto?

- A) Enquanto B) Desde que C) Mas D) Mesmo que E) Contanto que

02. Em: *Você é responsável pelo que é público*, os termos sublinhados complementam o significado do termo “responsável”, sendo um exemplo de regência nominal.

Em todas as alternativas a seguir, há exemplos de Regência Nominal, EXCETO em

- A) Você é capaz de acertar todas as questões desta prova.
 B) Todos os candidatos estão aptos a exercer o cargo.
 C) Os peregrinos que vão ao Santuário têm grande devoção com a Mãe Rainha.
 D) Às 8h15, procedeu-se ao Concurso da Câmara Municipal de Garanhuns.
 E) O clima da região de Garanhuns é favorável ao cultivo das flores.

03. Analisando-se o trecho do texto: “*Jogar lixo em encostas, ruas e rios, construir às margens de rios e pés de morro sem o licenciamento ambiental e modificações inadequadas são ações que fatalmente concorrem para a ocorrência de catástrofes.*”, verifica-se o emprego das vírgulas para separar elementos de mesma função sintática.

Em qual das afirmativas abaixo, há INCORREÇÃO quanto ao uso desse sinal de pontuação?

- A) A vida, longa aventura humana, é frágil.
 B) A natureza, meus irmãos, deve ser conservada.
 C) As catástrofes, muitas vezes, consequência da ação humana, ocorrem todos os anos.
 D) Você, cidadão brasileiro, preserve a natureza!
 E) Zelar pelo público é compromisso de todos os cidadãos que moram, em encostas, ruas e rios.

04. Quanto à acentuação gráfica, analise as afirmativas abaixo e assinale a INCORRETA.

- A) As palavras “consequência” e “exercício” são acentuadas por serem paroxítonas terminadas em ditongo.
 B) Acentuam-se os termos “pés” e “nós” por serem monossílabos tônicos terminados em E e O, respectivamente.
 C) Seguindo a mesma regra gramatical, recebem acento os termos “pés” e *marés*.
 D) Recebem acento os termos “público” e “catástrofes” por serem proparoxítonos.
 E) O termo “ocorrência” é acentuado pela mesma razão do termo “tragédia”.

05. Após a leitura do texto, conclui-se que

- A) as tragédias ocorrem porque cada ser humano faz sua parte como cidadão.
 B) todos os anos, acontecem catástrofes decorrentes da imprudência do ser humano.
 C) as catástrofes são sempre fenômenos naturais.
 D) cada um deve zelar pelo que é de todos.
 E) o governo é o único responsável por tudo aquilo que é público.

06. No trecho: “*A educação ambiental e o cuidado cotidiano com a nossa cidade, a nossa rua e a nossa moradia fazem parte de um exercício de cidadania que não depende de governo nem de governante.*”, o verbo sublinhado concorda com o seu sujeito composto. Em qual das afirmativas abaixo, o verbo sublinhado indica erro de Concordância Verbal?

- A) Havia tragédias todos os anos nos rios e morros.
 B) Há anos, registram-se catástrofes decorrentes da imprudência dos homens.
 C) Fazem anos que se educa para salvar a natureza.
 D) Cerca de 90% das enchentes devem-se ao acúmulo de lixo nas vias públicas.
 E) Joga-se lixo nos canais, gerando transbordamentos.

Texto 2 (questão 07)



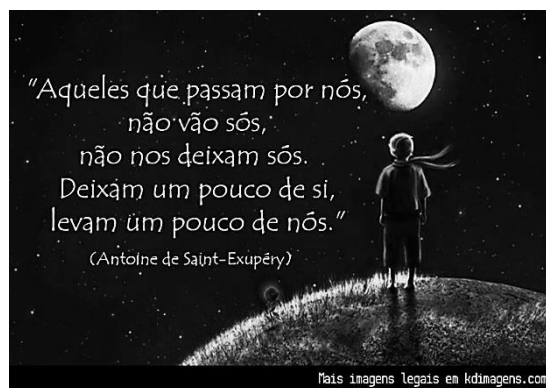
07. Sobre esse texto, analise os itens abaixo:

- I. Há nele uma referência a um outro texto, o que caracteriza uma relação de intertextualidade.
 II. Nas palavras “caixa” e *enxurrada*, a letra X representa o mesmo fonema.
 III. A forma verbal “vem” está no modo imperativo, expressando um pedido.

Está CORRETO o que se afirma em

- A) I, II e III. B) II e III, apenas. C) I e II, apenas. D) I, apenas. E) II, apenas.

Texto 3 (questões 08 e 09)



Disponível em: <http://artesanatosdasiglea.blogspot.com.br/2013/03/texto-descritivo.html>

08. Sobre esse texto, é INCORRETO afirmar que o termo

- A) “sós” tem valor de adjetivo, logo se pluraliza.
 B) “que” se refere ao termo anterior “aqueles”.
 C) “sós” equivale a sozinhos, por isso se encontra no plural.
 D) “nos” complementa o verbo “deixam”.
 E) “aqueles” é sujeito do verbo “passam”.

09. Após ler o texto de Exupéry, que ideia NÃO está contida nele?

- A) Sempre fica algo daqueles com os quais se conviveu.
 B) Sempre que houver convívio humano, algo será apreendido.
 C) As pessoas passam e deixam marcas.
 D) Nunca se estará sozinho, pois sempre existirá a lembrança dos que se foram.
 E) Há sempre aquisição de algo por parte, apenas, daquele que passa.

Texto 4 (questão 10)

Um pobre diabo caminhando para os setenta anos, antipático, cabelo branco, curto e duro, como escova, barba e bigode do mesmo teor; muito macilento, com uns óculos redondos que lhe aumentavam o tamanho da pupila e davam-lhe à cara uma expressão de abutre, perfeitamente de acordo com o seu nariz adunco e com a sua boca sem lábios: viam-se-lhe ainda todos os dentes, mas, tão gastos, que pareciam limados até ao meio.

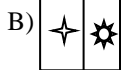
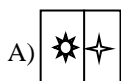

(Aluísio Azevedo, *O Cortiço*, Capítulo II. Adaptado)

10. Sobre esse texto, é CORRETO afirmar que se trata de uma

- A) narração.
 B) descrição.
 C) injunção.
 D) dissertação.
 E) dissertação com trechos narrativos.

RACIOCÍNIO LÓGICO

11. Assinale a alternativa que preenche o espaço onde se encontra o ponto de interrogação.



12. Assinale a alternativa que apresenta o número que completa a sequência a seguir:

0	13	24	33	40	45	48
---	----	----	----	----	----	----

A) 49

B) 51

C) 53

D) 55

E) 57

13. Júlia é mais velha que Geni. Marli é mais nova que Geni. Logo,

A) Marli é mais velha que Júlia.

B) Marli é mais nova que Júlia.

C) Geni é mais nova que Marli.

D) Geni é mais velha que Júlia.

E) Júlia é mais nova que Marli.

14. Em uma escolinha de esportes, 48 crianças praticam apenas futebol, e 30, apenas, natação. Sabendo-se, ainda, que 38 crianças praticam natação e que 55 não praticam futebol, quantos alunos existem na escolinha?

A) 86

B) 93

C) 103

D) 111

E) 171

15. Quantas lajotas retangulares de dimensão 10 X 30 cm são necessárias para se cobrir uma calçada de 7,5 metros por 2,1 metros?

A) 35

B) 3,5

C) 525

D) 350

E) 52,5

16. A proposição “Nenhum aluno da Universidade tem menos de 15 anos” é negada por:

A) Nem todo aluno da Universidade tem menos de 15 anos.

B) Nem todo aluno da Universidade tem mais de 15 anos.

C) Não existe aluno da Universidade com 15 anos.

D) Algum aluno da Universidade tem menos de 15 anos.

E) Algum aluno da Universidade tem mais de 15 anos.

17. Foram realizadas 20 coletas do índice de precipitação de chuva em 20 municípios para se avaliar o impacto da seca no período. Observe a seguinte distribuição de frequência:

Número de municípios pesquisados	5	3	4	8
Precipitação de chuvas em mm	19,0	21,0	22,5	23,0

Após a análise da tabela acima, assinale a alternativa que contém, respectivamente, a média, a moda e a mediana da distribuição.

A) 23 / 21,6 / 22,5

B) 21,6 / 22,5 / 23

C) 22,5 / 21,6 / 23

D) 22,5 / 23 / 21,6

E) 21,6 / 23 / 22,5

18. Viajando juntos, um grupo de oito amigos será distribuído em quatro quartos duplos. Quantas são as opções de distribuição dos amigos nos quartos?

A) 1260

B) 2520

C) 5040

D) 20160

E) 40420

28. Uma copeira deve

- A) usar uniforme escuro e relógio para ficar atenta aos horários dos pedidos.
- B) calçar sandálias abertas e usar uniforme claro.
- C) proteger os cabelos com toucas ou redes e usar unhas curtas.
- D) andar sempre perfumada e com unhas pintadas de cores fortes.
- E) lavar as mãos após o uso do banheiro e usar anéis e pulseiras que combinem com o uniforme.

29. Assinale a alternativa que indica a sequência CORRETA das etapas de higienização de utensílios em uma lanchonete.

- A) Remoção de resíduos, sanitização, pré-lavagem, lavagem e enxágue.
- B) Sanitização, remoção de resíduos, pré-lavagem, lavagem e enxágue.
- C) Pré-lavagem, remoção de resíduos, lavagem, enxágue e sanitização.
- D) Remoção de resíduos, pré-lavagem, lavagem, enxágue, sanitização e enxágue.
- E) Sanitização, pré-lavagem, remoção de resíduos, enxágue.

30. Qual das atitudes abaixo é recomendada para manipuladores de alimentos durante a realização de suas tarefas?

- A) Usar toucas, botas e luvas adequadas.
- B) Fumar.
- C) Mastigar ou comer.
- D) Espirrar ou tossir sobre o alimento.
- E) Usar adornos.

31. Qual dos locais abaixo é mais apropriado para descongelar alimentos?

- A) Bancada, sem controle de temperatura.
- B) Geladeira
- C) Recipiente com água morna
- D) Pia com água corrente
- E) Recipiente com solução clorada

32. As condições, que ajudam no controle da presença de insetos e roedores na cozinha, são

- A) alimentos cobertos e caixa de papelão vazia.
- B) água potável e lixo tampado.
- C) presença de gatos.
- D) limpeza e organização.
- E) restos de alimentos e ambiente desorganizado.

33. As disposições gerais do Código de Defesa do Consumidor definem consumidor como

- A) toda pessoa física ou jurídica que adquire ou utiliza produto ou serviço como destinatário final.
- B) toda pessoa física ou jurídica, pública ou privada, nacional ou estrangeira, bem como os entes despersonalizados, que desenvolvem atividade de produção, montagem, criação, construção, transformação, importação, exportação, distribuição ou comercialização de produtos ou prestação de serviços.
- C) qualquer bem, móvel ou imóvel, material ou imaterial.
- D) toda pessoa física ou jurídica, pública ou privada, nacional ou estrangeira, bem como os entes despersonalizados que desenvolvem atividade de compras para terceiros.
- E) qualquer atividade fornecida no mercado de consumo, mediante remuneração, inclusive as de natureza bancária, financeira, de crédito e securitária, salvo as decorrentes das relações de caráter trabalhista.

34. Para servir uma vitamina de fruta, deve-se

- A) sempre colocar açúcar ou mel.
- B) servir imediatamente após o preparo.
- C) usar somente o leite integral e não, o desnatado.
- D) usar água filtrada em substituição ao leite.
- E) usar as frutas sem a higienização prévia, pois o ato de liquidificar destrói os contaminantes presentes.

35. Qual das descrições abaixo NÃO corresponde ao nome do sanduíche?

- A) **Americano** - normalmente feito com os seguintes ingredientes: presunto, queijo, ovo, alface, tomate e maionese.
- B) **Beirute** - feito tradicionalmente com pão sírio, rosbife, queijo, alface, tomate, ovo frito.
- C) **Hambúrguer** - é uma espécie de bolinho achatado de carne moída, servido entre dois pães, formando um sanduíche.
- D) **Cachorro quente** - coloca-se uma salsicha ou mais dentro de um longo pão sovado ou pão francês.
- E) **Cheeseburger** ou **x-burger**: coloca-se uma salsicha entre dois pães, com uma fatia de queijo.

36. Durante o atendimento ao cliente, o copeiro deve

- A) falar muito baixo.
- B) falar muito rápido.
- C) mastigar balas, chicletes e alimentos.
- D) coçar a cabeça.
- E) ter uma expressão amistosa.

37. A busca da excelência no atendimento está profundamente ligada ao despertar da vontade das pessoas. Para que isso aconteça, o atendimento NÃO DEVE ser feito com

- A) rapidez.
- B) tranquilidade.
- C) gentileza.
- D) ironia.
- E) compromisso.

38. Sobre o uso de produtos de limpeza, assinale a alternativa INCORRETA.

- A) **SABÃO EM PÓ** – deve ser usado na lavagem de tecido e pisos, misturado com água sanitária.
- B) **ÁGUA SANITÁRIA** (mistura de hipoclorito de sódio cloro) e água – na proporção de 2% a 2,5% de cloro. Elimina bactérias de frutas, legumes e verduras.
- C) **DESINFETANTE** - produto capaz de esterilizar superfícies. É capaz de destruir microrganismos presentes em roupas, utensílios e instalações.
- D) **DETERGENTE LÍQUIDO** - usado na remoção de gorduras em superfícies laváveis, como pisos, paredes, azulejos, metais, alumínio, plásticos e vidros.
- E) **SAPÓLIO** - sabão fabricado com pó mineral, eficaz na retirada de sujeira em azulejos, panelas inox, fogões e pisos rústicos. Apresenta características abrasivas, ou seja, arranha as superfícies mais sensíveis.

39. O que NÃO deve ser priorizado no momento da compra de equipamentos e utensílios para uma copa?

- A) Quantidade
- B) Qualidade
- C) Dimensões
- D) Tempo de uso
- E) Beleza

40. Na organização de serviços, devem ser planejadas as condições de recepção e armazenamento dos alimentos, conforme o grau de perecibilidade. Considerando esse critério, quais alimentos devem ser recebidos e armazenados em primeiro lugar?

- A) Alimentos perecíveis resfriados e refrigerados
- B) Alimentos perecíveis congelados
- C) Alimentos semiperecíveis em temperatura ambiente
- D) Alimentos perecíveis permitidos em temperatura ambiente
- E) Alimentos não perecíveis



ATENÇÃO

- *Abra este Caderno, quando o Fiscal de Sala autorizar o início da Prova.*
- *Observe se o Caderno está completo. Ele deverá conter 40 (quarenta) questões objetivas do tipo múltipla escolha com 05 (cinco) alternativas cada, assim estruturadas: 10 (dez) de Língua Portuguesa, 10 (dez) de Raciocínio Lógico e 20 (vinte) de Conhecimentos Específicos.*
- *Se o Caderno estiver incompleto ou com algum defeito gráfico que lhe cause dúvidas, informe, imediatamente, ao Fiscal.*
- *Uma vez dada a ordem de início da Prova, preencha, nos espaços apropriados, o seu Nome completo, o Número do seu Documento de Identidade, a Unidade da Federação e o Número de Inscrição.*
- *Para registrar as alternativas escolhidas nas questões objetivas de múltipla escolha, você receberá um Cartão-Resposta de Leitura Ótica. Verifique se o Número de Inscrição impresso no Cartão coincide com o seu Número de Inscrição.*
- *As bolhas constantes do Cartão-Resposta devem ser preenchidas totalmente, com caneta esferográfica azul ou preta.*
- *Preenchido o Cartão-Resposta, entregue-o ao Fiscal e deixe a sala em silêncio.*

BOA SORTE!