



PREFEITURA DO IPOJUCA
AUTARQUIA MUNICIPAL DE TRÂNSITO E TRANSPORTES DO IPOJUCA – AMTTRANS
CONCURSO PÚBLICO

DADOS DE IDENTIFICAÇÃO DO CANDIDATO

Não deixe de preencher as informações a seguir:

PRÉDIO																										SALA	

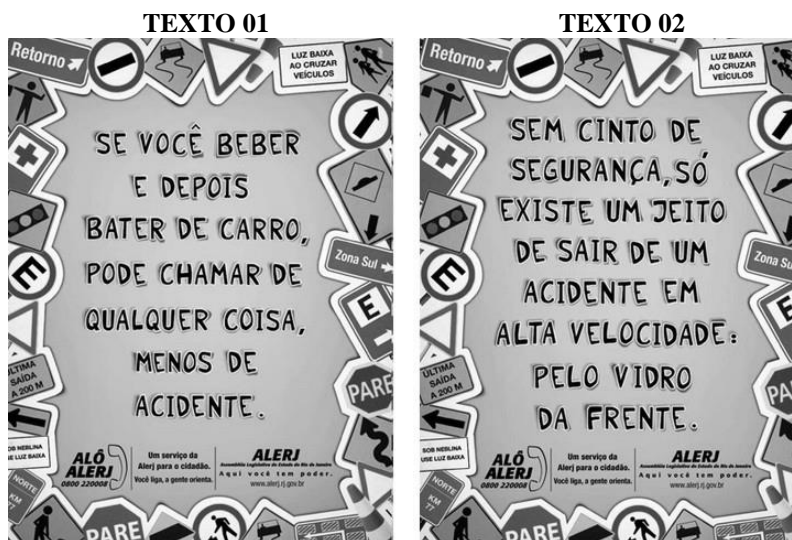
NOME																														

Nº DE IDENTIDADE								ÓRG. EXPED.				UF			Nº DE INSCRIÇÃO															

ARQUIVISTA

CONHECIMENTOS DA LÍNGUA PORTUGUESA

TEXTOS 01 e 02 (questões 01 e 02)



Disponível em: www.google.com.br

01. Sobre o texto 01, é CORRETO afirmar que

- A) o elemento coesivo “Se” exprime circunstância condicional e pode ser substituído por “embora”, sem causar prejuízo ao sentido original da oração.
- B) a tonicidade do termo “você” recai na penúltima sílaba, razão por que é acentuado.
- C) assim como “chamar”, grafa-se o termo “encherto”.
- D) o termo “menos”, no contexto apresentado, tem o valor de “exceto”.
- E) existe incorreção quanto ao uso de vírgula. O correto seria: Se você beber e, depois bater de carro...

02. Lendo-se o texto 02, conclui-se que

- A) o cinto de segurança é algo de pouca relevância.
- B) ao usar o cinto de segurança, o motorista possui poucas chances de sair ileso de acidentes.
- C) dirigir em alta velocidade usando cinto de segurança não caracteriza atitude irresponsável do motorista.
- D) na ausência do cinto de segurança e, caso o carro esteja em alta velocidade, apenas o vidro da frente facilita a saída do(s) passageiro(s).
- E) se o carro estiver em alta velocidade e o motorista sem uso de cinto de segurança, inexistem alternativas para salvá-lo.

TEXTO 03 (questões 03 e 04)

DIA DO TRÂNSITO

As sinalizações de trânsito são universais

Comemora-se, no dia 25 de setembro, o dia nacional do trânsito.

De acordo com o artigo primeiro, § 1º da lei de trânsito em vigor no Brasil, “Considera-se trânsito a utilização das vias por pessoas, veículos e animais, isolados ou em grupos, conduzidos ou não, para fins de circulação, parada, estacionamento e operação de carga ou descarga.”

O trânsito é importante para a economia de um país, por interligar produções industriais ou naturais aos consumidores através dos meios de transporte. Além disso, proporciona o fluxo de pessoas para o trabalho, escola, médico, diversão, etc.

03. Sobre REGÊNCIA NOMINAL, analise os itens abaixo:

- I. “O trânsito é importante para a economia de um país...”
 II. “por interligar produções industriais ou naturais aos consumidores...”
 III. “Comemora-se, no dia 25 de setembro, o dia nacional do trânsito.”

É(são) exemplo(s) desse tipo de regência

- A) I e II, apenas. B) I, apenas. C) III, apenas. D) II e III, apenas. E) II, apenas.

04. Observe o trecho abaixo:

“O trânsito é importante para a economia de um país, por interligar produções industriais ou naturais aos consumidores através dos meios de transporte. Além disso, proporciona o fluxo de pessoas para o trabalho, escola, médico, diversão, etc.”

Se o termo “país” estivesse no plural, estaria CORRETO o que se indica na alternativa

- A) O trânsito é importante para a economia de países, por interligarem produções... Além disso, proporcionam o fluxo de pessoas para o trabalho...
 B) O trânsito é importante para a economia de países por interligar produções... Além disso, proporcionam o fluxo de pessoas para o trabalho...
 C) O trânsito é importante para a economia de países, por interligarem produções... Além disso, proporcionão o fluxo de pessoas para o trabalho...
 D) O trânsito é importante para a economia de países, por interligar produções. Além disso, proporcionarão o fluxo de pessoas para o trabalho.
 E) O trânsito é importante para a economia de países, por interligar produções... Além disso, proporciona o fluxo de pessoas para o trabalho.

TEXTO 04 (questões de 05 a 09)

Destaquei o Dia do Circo porque uma das coisas mais associadas ao riso e à alegria é o circo. Há registros de saltimbancos se apresentando para famílias, vilarejos e nobres desde a Antiguidade. E o circo se propõe à difícil tarefa de nos trazer alegria. Vocês já repararam que os artistas circenses nos fazem alegres, nos fazem rir pela surpresa, pela expectativa? Vamos prestando atenção à cena e começamos a nos iluminar, antecipando o que irá acontecer, até explodirmos de alegria.

MANZOTTI, Reginaldo. Ser cristão no dia a dia. Rio de Janeiro. Agir, 2013.p.38.

05. Analise os itens abaixo:

- I. “...uma das coisas mais associadas ao riso e à alegria é o circo.”- se o termo sublinhado fosse substituído por “ligadas”, o texto se manteria inalterado.
 II. “Há registros de saltimbancos...”- se o verbo sublinhado fosse substituído por “existir”, estaria correta a seguinte construção: “Existem registros de saltimbancos.”
 III. “...antecipando o que irá acontecer...” – o termo sublinhado se classifica como artigo definido.
 IV. “...saltimbancos se apresentando para famílias, vilarejos...”- a vírgula isola elementos de mesma função sintática.

Está CORRETO, somente, o que se afirma em

- A) I e II. B) II, III e IV. C) I, II e IV. D) II e IV. E) I, III e IV.

06. Sobre CRASE, analise os itens abaixo:

- I. “uma das coisas mais associadas ao riso e à alegria é o circo.” – nesse caso, a crase é facultativa.
 II. “E o circo se propõe à difícil tarefa de nos trazer alegria.” – se o verbo sublinhado fosse substituído pela forma verbal “tem”, a crase permaneceria.
 III. “Vamos prestando atenção à cena e começamos a nos iluminar...” – em relação ao primeiro termo sublinhado, a crase é obrigatória. Quanto ao segundo termo sublinhado, existe apenas a presença da preposição, razão por que inexistente a presença do acento grave.
 IV. “...vilarejos e nobres desde a Antiguidade.”- nesse caso, a crase é facultativa.

Está CORRETO o que se afirma em

- A) III, apenas. B) I e III, apenas. C) I, II e IV, apenas. D) II e III, apenas. E) I, II, III e IV.

07. Sobre o EMPREGO DE CLASSE DAS PALAVRAS, assinale a alternativa CORRETA.

- A) Em “porque uma das coisas mais associadas ao riso...”, – o termo sublinhado é classificado como conjunção subordinativa que exprime circunstância modal.
- B) “Há registros de saltimbancos se apresentando para famílias” – o primeiro verbo desse trecho é pessoal, cujo sujeito é representado pelo termo “registros”.
- C) Em “antecipando o que irá acontecer...”, – o termo sublinhado é classificado como pronome demonstrativo.
- D) “E o circo se propõe à difícil tarefa de nos trazer alegria.” – o termo sublinhado é pronome pessoal reto e poderia ser retirado da oração, sem causar qualquer prejuízo de ordem gramatical.
- E) “Vocês já repararam que os artistas circenses nos fazem alegres...” – o termo sublinhado se classifica como pronome pessoal reto, utilizado para se referir a alguém da 3ª. pessoa do singular.

08. Em qual das alternativas abaixo, o verbo sublinhado indica que a ação já foi consumada no passado?

- A) “E o circo se propõe à difícil tarefa...”
- B) “Vamos prestando atenção à cena...”
- C) “...antecipando o que irá acontecer...”
- D) “Vocês já repararam que os artistas circenses...”
- E) “Há registros de saltimbancos se apresentando para famílias...”

09. Segundo o autor do texto 04,

- A) o circo produz um sentimento de misantropia no homem.
- B) fazer sorrir é tarefa de fácil execução.
- C) a expectativa está presente no espetáculo circense.
- D) a monotonia paira nos cenários circenses.
- E) à Modernidade coube a autoria dos espetáculos circenses.

10. Observe abaixo os pronomes sublinhados:

“- Moço, me faça o favor de colocar a sinaleira quando for dobrar. Se isso o incomoda, sinto muito. Faz parte das normas do trânsito. Quem se atreve a dirigir, precisa obedecer a elas. Não se perturbe por tão pouco. Nós nos resolveremos sem a necessidade de autoridades. Basta você se comprometer a assumir as despesas.”

(Autor desconhecido)

Está CORRETO o que se afirma na alternativa

- A) O primeiro pronome indica a presença de próclise. Gramaticalmente, é considerada uma construção incorreta.
- B) O segundo pronome também poderia estar enclítico, e isso não caracterizaria erro.
- C) No terceiro pronome, a próclise se justifica por estar diante de um pronome interrogativo.
- D) No quarto pronome, se o advérbio “não” fosse substituído por “jamais”, esse pronome poderia também ficar enclítico ao verbo.
- E) O quinto pronome poderia ficar proclítico ao verbo “assumir”.

CONHECIMENTOS ESPECÍFICOS

11. “Arquivar é guardar qualquer espécie de documento, visando à facilidade de encontrá-lo, quando procurado”.

Em relação aos métodos de arquivamento, analise os itens abaixo:

- | |
|---|
| <p>I. Método Alfabético</p> <p>II. Método Numérico Simples</p> <p>III. Método Alfabético Numérico</p> <p>IV. Método Específico ou Por Assunto</p> |
|---|

Estão CORRETOS

- A) I e IV, apenas.
- B) I, II, III e IV.
- C) II, III e IV, apenas.
- D) I, III e IV, apenas.
- E) III e IV, apenas.

12. Quanto ao tipo de arquivo, numere a 2ª coluna de acordo com a 1ª.

1. Arquivo de Prosseguimento () É o que contém documentos em uso constante.
 2. Arquivo Ativo () É o que contém documentos de menor frequência de uso.
 3. Arquivo Inativo () É o que contém os documentos de frequência praticamente nula.
 4. Arquivo Morto () É indispensável para que nele sejam arquivadas cópias de documentos ou indicações que aguardam providências em datas determinadas.

Assinale a alternativa que contém a sequência CORRETA.

- A) 1-4-3-2 B) 4-1-2-3 C) 2-3-4-1 D) 3-4-1-2 E) 2-1-4-3

13. “A descrição documental pode ser considerada um procedimento arquivístico VG, que permite a localização dos documentos existentes nos arquivos, através de instrumentos de pesquisa, como guias, inventários, índices, etc.”.

A NOBRADE (Norma Brasileira de Descrição Arquivística) tem como objetivo

- A) adaptar as normas internacionais à realidade brasileira.
 B) estabelecer as normas específicas do arquivamento de documentos eletrônicos, apenas.
 C) converter as normas de arquivos tipo “morto” em arquivos secundários.
 D) determinar as relações entre os níveis primário e secundário dos documentos.
 E) promover as regras para a leitura dos arquivos em linguagem latina.

14. A NOBRADE tem como pressupostos básicos o respeito aos fundos e à descrição multinível, adotando os princípios expressos na ISAD(G). Acerca desses princípios, analise os itens abaixo:

- I. Descrição do geral para o particular
 II. Informação relevante para o nível de descrição
 III. Relação entre descrições
 IV. Não repetição da informação
 V. Nível automatizado para manual

Estão CORRETOS

- A) I, II e III, apenas.
 B) III, IV e V, apenas.
 C) I, II, III, IV e V.
 D) I, II e V, apenas.
 E) I, II, III e IV.

15. Numere a 2ª coluna de acordo com a 1ª em relação a alguns conceitos.

1. Coleção () Elaborado de acordo com a Norma Geral Internacional de Descrição Arquivística – ISAD(G).
 2. Código de referência () Conjunto de documentos de uma mesma proveniência.
 3. Dossiê () Conjunto de documentos com características comuns, reunidos intencionalmente.
 4. Fundo () Elaborado de acordo com a Norma Geral Internacional de Descrição Arquivística – ISAD(G).

Assinale a alternativa que contém a sequência CORRETA.

- A) 1-2-3-4 B) 3-1-4-2 C) 3-4-1-2 D) 2-4-1-3 E) 4-1-3-2

16. Em relação ao ciclo de vida dos documentos, assinale a alternativa CORRETA.

- A) Corrente, validado, sequencial.
 B) Institucional, validado, permanente.
 C) Permanente, randômico, sequencial.
 D) Corrente, intermediário, permanente.
 E) Sequencial, permanente, validado.

17. No que concerne ao ciclo de vida dos documentos, o documento, que cumpre sua finalidade administrativa ao longo do tempo, tem o valor identificado como

- A) Intensivo. B) Secundário. C) Primário. D) Residual. E) Intrínseco.

18. Em relação aos prazos de guarda e à destinação final de cada documento para as organizações, estas ganham algumas vantagens. Sobre essas vantagens, analise os itens abaixo:

- I. Ganho de espaço físico
- II. Maior facilidade na organização e recuperação de arquivo
- III. Economia nos gastos com recursos humanos
- IV. Economia com recursos financeiros
- V. Economia de materiais utilizados na guarda dos documentos

Está(ão) CORRETO(S)

- A) I, III e V, apenas.
- B) II, III, IV e V, apenas.
- C) IV, apenas.
- D) I, II, III, IV e V.
- E) I, II, III e V, apenas.

19. “Gerenciamento eletrônico de documentos (GED) é uma tecnologia, que provê um meio de facilmente gerar, controlar, armazenar, compartilhar e recuperar informações existentes em documentos”.

A utilização do GED apresenta alguns benefícios às organizações. Sobre os benefícios, analise os itens abaixo:

- I. Mais agilidade em transações entre empresas
- II. Melhoria no processo de tomada de decisões
- III. Maior velocidade na implementação de mudanças em processos
- IV. Controle parcial no processo de negócio
- V. Aproveitamento parcial de espaço físico

Está(ão) CORRETO(S)

- A) I, II e V, apenas.
- B) II, III e IV, apenas.
- C) I, II e III, apenas.
- D) III, apenas.
- E) II e IV, apenas.

20. Sobre as aplicações do uso do GED, analise os itens abaixo e coloque “V” nos itens Verdadeiros e “F” nos Falsos.

- () Ações de apoio ao gerenciamento do conhecimento
- () Utilização em ERP
- () Utilização em CRM
- () Ações de apoio aos processos de fiscalização tributária, apenas
- () Atendimento a clientes de bancos públicos, apenas
- () Automação de cartórios

Assinale a alternativa que contém a sequência CORRETA.

- A) V-V-F-F-F-V
- B) V-V-V-F-F-V
- C) V-V-F-F-V-F
- D) F-F-F-V-F-F
- E) V-F-F-V-V-V

21. Em relação a conceitos de processos de GED, numere a 2ª coluna de acordo com a 1ª.

- | | | |
|-----------------------|-----|--|
| 1. Acesso | () | Operação matemática, que utiliza algoritmos de criptografia e permite aferir, com segurança, a origem e a integridade do documento. |
| 2. Arquivo digital | | Credibilidade de um documento enquanto documento, isto é, a qualidade de um documento ser o que diz ser e de estar livre de adulteração ou qualquer outro tipo de corrupção. |
| 3. Assinatura digital | | Direito, oportunidade ou meios de encontrar, recuperar e usar a informação. |
| 4. Autenticidade | | Conjunto de bits, que formam uma unidade lógica interpretável por um programa de computador e armazenada em suporte apropriado. |

Assinale a alternativa que contém a sequência CORRETA.

- A) 1-4-3-2
- B) 3-2-4-1
- C) 2-3-4-1
- D) 3-4-1-2
- E) 4-2-3-1

22. “A gestão da informação e do conhecimento facilita o uso da informação empresarial para tomada de decisões, gerando conhecimentos organizacionais”.

Acerca das aplicações da gestão da informação e do conhecimento, analise os itens abaixo:

- I. Criação de uma base de conhecimento compartilhada por toda a organização.
- II. Facilidade de inclusão de conteúdos, classificação das informações e, principalmente, localização dos dados contextualizados.
- III. Facilidade de gerenciamento de conteúdo devido à estrutura simples e padronizada de arquivamento.
- IV. Aumento da velocidade de acesso às informações.
- V. Redução de erros e problemas causados por arquivos desatualizados.

Estão CORRETOS

- A) I, II e V, apenas.
- B) III e IV, apenas.
- C) I, II, III, IV e V.
- D) I, III e V, apenas.
- E) II, III e IV, apenas.

23. O sistema operacional de um computador tem como uma de suas principais funções

- A) ser multitarefa.
- B) atender a usuários não cadastrados em sistemas de segurança.
- C) imprimir arquivos no padrão PDF, apenas.
- D) estabelecer a hora do sistema, quando houver falta de energia e se estiver sem bateria.
- E) utilizar firewall de outros sistemas para proteção individual e não, de uma rede.

24. A Internet é caracterizada pelo acesso a diferentes páginas no ambiente virtual. A identificação de uma página na Internet ocorre através do seu

- A) endereço AVI.
- B) acesso pelo blog individual.
- C) endereço URL.
- D) acesso pelo e-mail.
- E) endereço do Skype.

25. O uso do recurso da marca d'água no editor de texto Word encontra-se identificado no menu suspenso

- A) Página inicial.
- B) Exibição.
- C) Inserir.
- D) Layout de página.
- E) Revisão.

26. A opção de uso de janelas dentro do editor de texto word é localizada no menu suspenso

- A) Exibição.
- B) Inserir.
- C) Referências.
- D) Correspondências.
- E) Revisão.

27. A planilha eletrônica Excel permite a utilização de textos e números dentro de um conceito matricial de linhas x colunas. Sobre essa observação, está CORRETO afirmar que

- A) qualquer operação aritmética é realizada sempre na horizontal.
- B) a utilização de funções trigonométricas não é permitida.
- C) a função de matemática financeira só é utilizada com uma calculadora científica anexa.
- D) realizar uma operação aritmética na vertical irá disponibilizar um resultado da operação.
- E) o uso de filtros não é permitido.

28. Sobre a planilha Excel, assinale “V” para as afirmativas Verdadeiras e “F” para as Falsas.

- () A importação de dados do programa MS-Access é permitida.
- () Importar dados do MS-Word não é permitido.
- () O uso de testes de hipóteses não é permitido.
- () O uso de gráficos só é permitido em planilhas de grande porte.

Assinale a alternativa que contém a sequência CORRETA.

- A) F-F-V-V
- B) V-F-F-F
- C) V-F-V-F
- D) F-V-V-V
- E) V-V-F-F

29. O menu suspenso Inserir na planilha Excel permite a inserção de gráficos estatísticos. Sobre isso, é CORRETO afirmar que

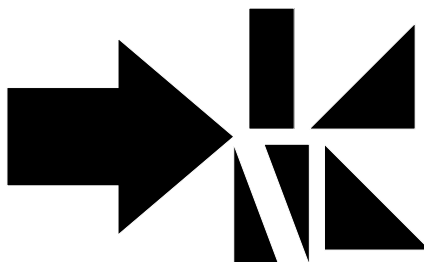
- A) o gráfico de área oferece a opção em 3D.
- B) não são permitidos outros tipos de gráficos, salvo os tradicionais.
- C) o gráfico de dispersão não foi disponibilizado, ainda, na planilha.
- D) o gráfico de coluna não dispõe de 3D.
- E) o gráfico de linha só oferece a opção em 2D.

30. A Intranet é um recurso utilizado nas organizações para comunicação interna entre seus funcionários. Sobre esse recurso, é CORRETO afirmar que

- A) a WAN não permite o uso de uma Intranet.
- B) o protocolo TCP/IP não é utilizado em uma Intranet.
- C) o acesso aos arquivos de dados é ilimitado com o uso de uma Intranet.
- D) os recursos de segurança não são necessários para uso na Intranet.
- E) uma LAN pode ser utilizada para disponibilizar acesso a uma Intranet.

RACIOCÍNIO LÓGICO

31. Observe, a seguir, as partes separadas de uma figura e assinale a alternativa que corresponde à figura formada pela junção dessas partes.



A)



B)



C)



D)



E)

32. Complete a sequência:

$$\frac{1}{4} \mid \frac{2}{3} \quad \frac{3}{5} \mid \frac{1}{5} \quad \frac{2}{8} \mid \frac{4}{6} \quad \frac{6}{10} \mid \frac{2}{10} \quad \frac{?}{?} \mid \frac{?}{?}$$

$$\frac{4}{16} \mid \frac{8}{12}$$

A)

$$\frac{6}{12} \mid \frac{4}{12}$$

B)

$$\frac{5}{10} \mid \frac{3}{12}$$

C)

$$\frac{8}{12} \mid \frac{4}{16}$$

D)



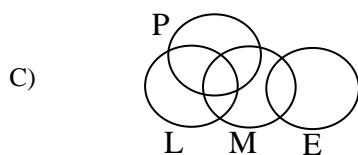
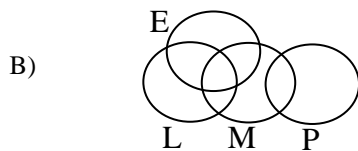

$$\frac{8}{16} \mid \frac{4}{12}$$

E)

33. Em uma determinada oficina mecânica, os profissionais desenvolvem atividades de mecânico (M), eletricista (E), pintor (P) e lanterneiro (L) e apresentam as seguintes características:

- Há mecânicos que são eletricistas.
- Existem lanterneiros que também são mecânicos.
- Há pintores que são também lanterneiros.
- Alguns mecânicos e lanterneiros também são pintores.
- Nenhum pintor é eletricista.

Assinale a alternativa que representa as características dos profissionais da oficina.



34. Joey tinha, nas mãos, um documento, quando alguém lhe perguntou: “De quem é esse documento?” Joey respondeu: “Não tenho irmãos nem irmãs por parte de mãe nem por parte de pai, e o pai do dono desse documento é filho do meu pai”. O documento pertencia

- A) ao pai de Joey.
 B) ao filho de Joey.
 C) a Joey.
 D) ao avô de Joey.
 E) ao sobrinho de Joey.

35. Sally é filha de Lucy, ou Linus é primo de Chiquinho. Se Linus é primo de Chiquinho, então Schroe é irmão de Woods. Se Charles é neto de Patty, então Schroe não é irmão de Woods. Ora, Charles é neto de Patty. Logo

- A) Charles é neto de Patty, e Schroe é irmão de Woods.
 B) Linus é primo de Chiquinho ou Schroe é irmão de Woods.
 C) Sally é filha de Lucy, e Linus não é primo de Chiquinho.
 D) Sally não é filha de Lucy, e Linus é primo de Chiquinho.
 E) Schroe é irmão de Woods, e Sally é filha de Lucy.

36. Uma caixa contém 4 bolas amarelas, 3 verdes, 2 azuis e 1 branca. De quantas formas diferentes podem ser tiradas, uma a uma, todas as bolas da caixa?

- A) 10
 B) 100
 C) 126
 D) 1000
 E) 1260

37. Uma empresa dispõe de sete auditores do sexo masculino e quatro do sexo feminino. De quantas maneiras podem ser escolhidas seis pessoas para a formação de uma equipe que inclua, pelo menos, duas mulheres?

- A) 21
 B) 35
 C) 64
 D) 371
 E) 462

38. Um conjunto A contém os números formados por dois algarismos (sem repetição) a partir dos algarismos 1, 2, 3, 4, 5, 6 e 7. Qual a probabilidade de, escolhendo aleatoriamente um número do conjunto A, esse número ser par?

- A) 1/2
 B) 3/7
 C) 3/14
 D) 1/21
 E) 1/42

39. Em uma academia com 400 alunos, 200 atletas praticam natação, e 135, hidroginástica, enquanto que 125 atletas não fazem nem natação nem hidroginástica. O percentual de alunos que praticam ambos os esportes é de

- A) 10,0%
- B) 15,0%
- C) 20,0%
- D) 25,0%
- E) 26,7%

40. Em uma blitz, foram apreendidos 10 veículos. Esses veículos devem ficar nos pátios P1, P2 e P3 onde existem vagas para 5, 3 e 2 veículos, respectivamente. De quantas formas diferentes, os veículos podem ser distribuídos nos 3 pátios?

- A) 144
- B) 252
- C) 1.440
- D) 2.520
- E) 362.880



ATENÇÃO

- *Abra este Caderno, quando o Fiscal de Sala autorizar o início da Prova.*
- *Observe se o Caderno está completo. Ele deverá conter 40 (quarenta) questões objetivas do tipo múltipla escolha com 05 (cinco) alternativas cada, sendo 10 (dez) de Conhecimentos da Língua Portuguesa, 20 (vinte) de Conhecimentos Específicos e 10 (dez) de Raciocínio Lógico.*
- *Se o Caderno estiver incompleto ou com algum defeito gráfico que lhe cause dúvidas, informe, imediatamente, ao Fiscal.*
- *Ao receber o Caderno de Prova, preencha, nos espaços apropriados, o seu Nome completo, o Número do seu Documento de Identidade, a Unidade da Federação e o Número de Inscrição.*
- *Para registrar as alternativas escolhidas, você receberá um Cartão-Resposta de Leitura Ótica. Verifique se o Número de Inscrição impresso no Cartão coincide com o seu.*
- *As bolhas do Cartão-Resposta devem ser preenchidas totalmente, com caneta esferográfica azul ou preta.*
- *O tempo destinado à Prova está dosado, de modo a permitir fazê-la com tranquilidade.*
- *Preenchido o Cartão-Resposta, entregue-o ao Fiscal e deixe a sala em silêncio.*

BOA SORTE!

